

Př 7 HMYZ do 29.5.

- nejpočetnější a nejrozmanitější skupina živočichů na Zemi
- žijí většinou, někteří.....
- jsou zde z pohledu člověka druhya.....
- jsou pohlaví, vývin je

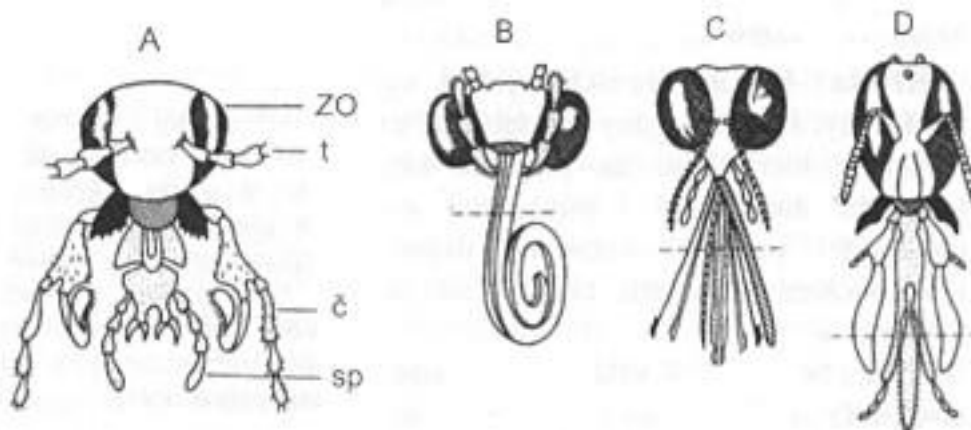
Popiš vývin hmyzu:

→ proměna nedokonalá

→ proměna dokonalá

Nakresli a popiš stavbu těla saranče

Urči typ ústního ústrojí hmyzu, uveď příklad hmyzu s daným typem ústního ústrojí:









































A.....

B-.....

C.....

D.....

V tajence doplňovačky nalezněš rodové a druhové jméno známého představitele blanokřídlého hmyzu:

				*						
				*						
				*						
				*						
				*						
				*						
				*						
				*						
				*						
				*						

Změny organismů na Zemi od vzniku až po současnost

Věda zkoumající živočichy

Zelený rostlinný orgán

Obojetník

Korálový ostrov

Vzájemně prospěšné soužití

Soubor stejných rostlinných buněk

Známé antibiotikum

Část houby, kterou sbíráme

Konzument lovící potravu