


Přírodopis 7. tř. - DÚ 06 – do 24.4.

KVĚTY

1. Popiš stavbu oboupohlavného květu tulipán

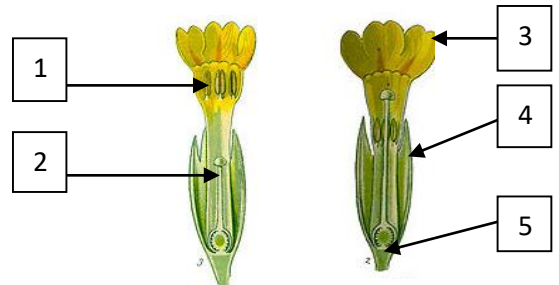
1. _____
2. _____
3. _____
4. _____



nabídka: květní lůžko, okvěť, tyčinky, pestík

2. Popiš stavbu oboupohlavného květu prvosenky:


1. _____
2. _____
3. _____
4. _____
5. _____



nabídka: tyčinka, pestík, květní lůžko, kalich, koruna

3. Popiš stavbu tyčinky a pestíku:

1. _____
2. _____
3. _____
4. _____
5. _____
6. _____



nabídka: semeník s vajíčky, nitka, blizna, prašník, čnělka, pylová zrnka

4. Vyřeš přesmyčky a pojmy vysvětli:

STLIRONA DOMÁJEDNO _____

NAROSTLI MÁDODOU _____

TYKVĚ PONÉHLAVOUBOU _____

KVTYĚ NOJEDHLAVPONÉ _____

5. Spoj správně pojmy:

opylení	splynutí samčí a samičí pohlavní buňky
oplození	přenesení pylu z tyčinky na pestík
tyčinka	samičí část květu
pestík	samčí část květu
prašník	lepkavá část pestíku
blizna	váček obsahující pyl
pylová láčka	soubor květů
květenství	květní obaly
okvětí, kalich, koruna	klíčící pylové zrnko

6. Označ květ pravidelný a souměrný:

1. _____

2. _____

1



2



7. Nakresli tato květenství: úbor, okolík, klas

8. Doplň:

K opylení dochází _____ , _____ , _____ .

Z oplozeného vajíčka vzniká _____ . Ze semeníku vzniká _____ .

nabídka: plod, semeno, vodou, větrem, hmyzem